

受験番号

※問題用紙10枚、解答用紙1枚。

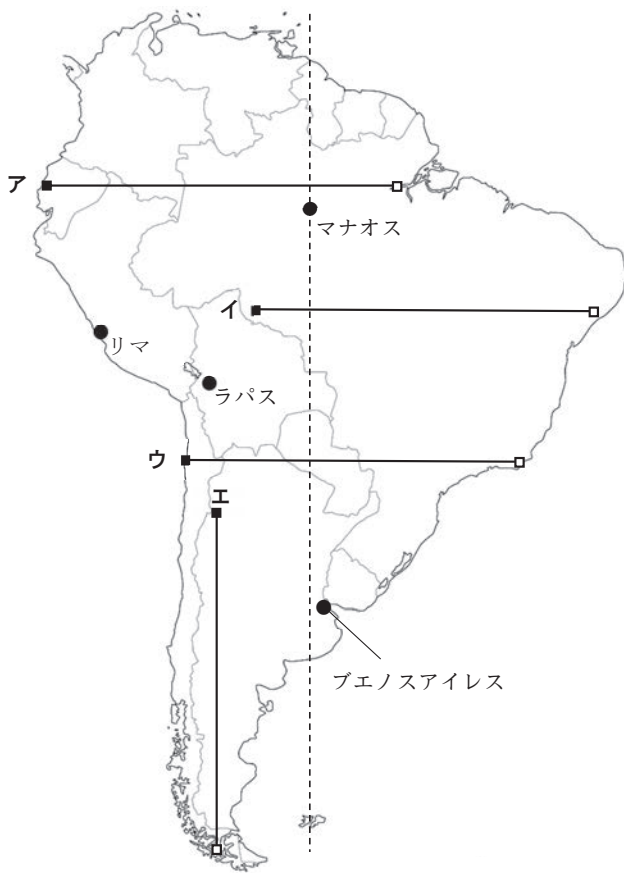
※答えはすべて別紙解答用紙に書きなさい。 ※選んで答える問題は記号で答えなさい。

1 次の【A】・【B】の文章や地図について、あとの問いに答えなさい。

【A】

南アメリカ大陸は、①西半球に位置し赤道をまたいで存在する大陸である。②起伏に富んだ地形が広がり、③さまざまな気候が分布する自然豊かなところである。16世紀にヨーロッパの国が④先住民の国や社会を滅ぼし、植民地支配を行った。現在の南アメリカ州には、先住民のほか、ヨーロッパ、アフリカ、アジアなどからやってきた⑤さまざまな人種や民族が共存して暮らしている。

南アメリカ州では、産業が発展することで⑥都市化が進み、都市部に人口が集中するようになった。また、農産物や⑦鉱産資源とそれらの加工品は、各国の⑧主要な輸出品となっている。



地図1

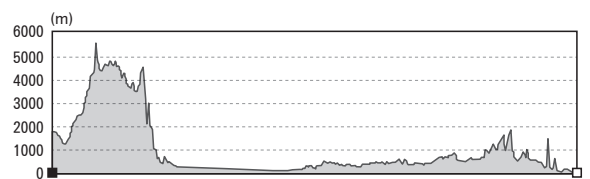


地図2

問1 下線部①について、地図1中の破線は経線を示しています。この経線の経度を次のア～エから1つ選びなさい。

- ア 西経30度 イ 西経60度 ウ 西経90度 エ 西経120度

問2 下線部②について、右の断面図にあてはまる位置として正しいものを、地図1中の実線ア～エより1つ選びなさい。ただし、右図中の■印と□印は、地図1中の■印と□印のいずれかに対応しています。

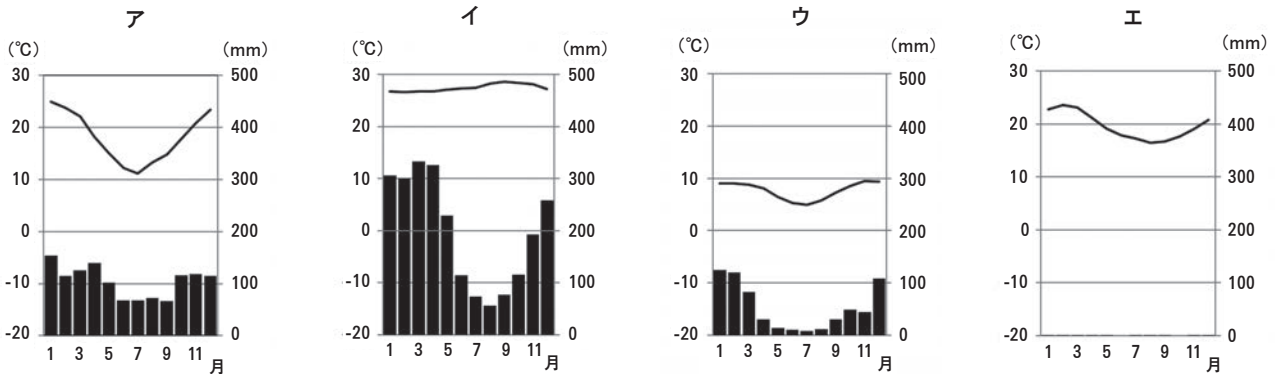


(『地理院地図』より作成)

令和8年度 帝塚山高等学校入学試験問題・社会 (その2)

問3 下線部③について、次の問いに答えなさい。

(1) 次のア～エは、地図1中のブエノスアイレス、マナオス、ラパス、リマのいずれかの地点のもので、リマにあてはまるものを選びなさい。



(『気象庁ホームページ』より作成)

(2) 次のア～エは、アジア、ヨーロッパ、南アメリカ、オセアニアのいずれかの地域別森林面積(2020年、千ha)、森林率*(2020年、%)、1990年から2015年までの森林面積の増減(千ha/年)を示したものです。南アメリカにあてはまるものを選びなさい。

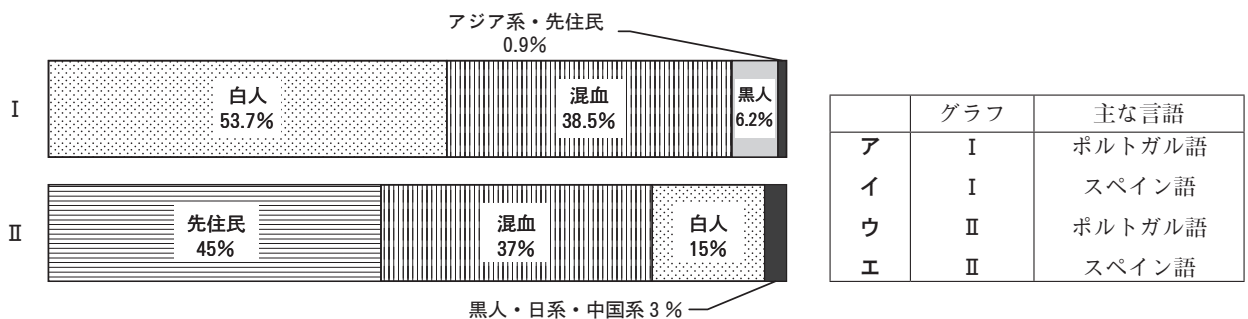
*森林率とは、森林面積÷土地面積×100で算出した数値である。

	地域別森林面積 (千ha)	森林率 (%)	1990年から2015年までの森林面積の増減 (千ha/年)
ア	1,017,461	46.0	+ 848
イ	622,687	20.1	+ 1010
ウ	844,186	48.1	- 3552
エ	185,248	21.8	- 132

(林野庁『世界森林資源評価(FRA)2020メインレポート概要』、『データブックオブザワールド2025』、環境省『国際的な森林保全対策』より作成)

問4 下線部④について、15世紀から16世紀初頭にかけてアンデス山脈とその周辺一帯に栄えた国名を答えなさい。

問5 下線部⑤について、次のグラフI、IIは、地図2中のX国、Y国いずれかの人種構成を示したものです。X国の人種構成を示したグラフと、X国で主に話される言語の組合せとして正しいものを、次のア～エから1つ選びなさい。



* Iは統計上、100%にならない。(『データブックオブザワールド2025』より作成)

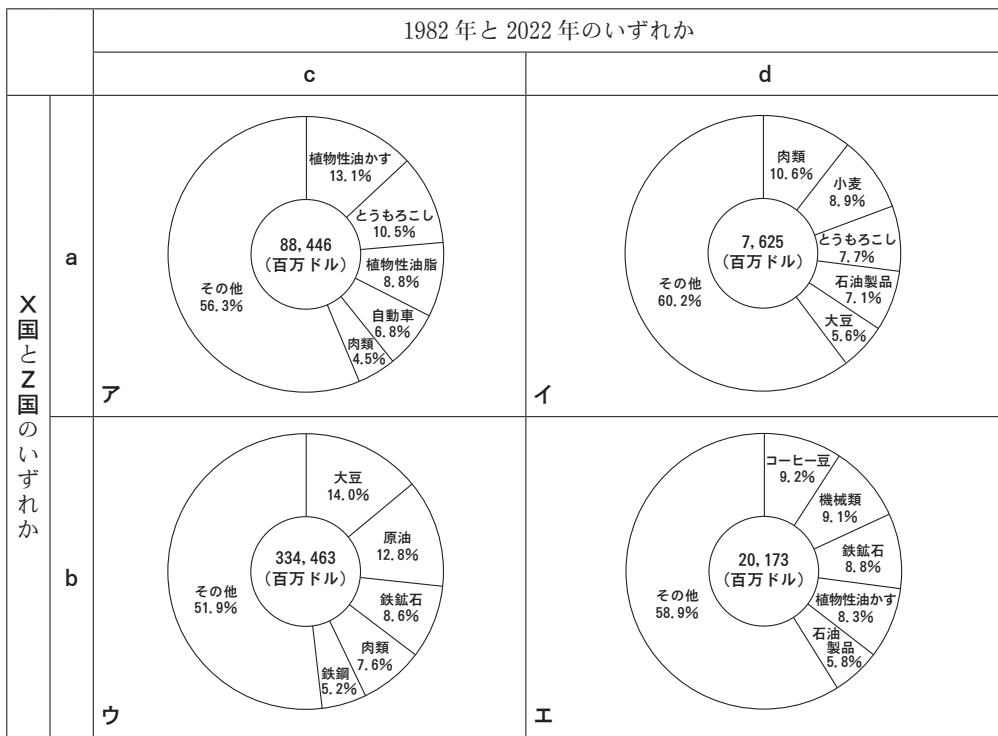
令和8年度 帝塚山高等学校入学試験問題・社会 (その3)

問6 下線部⑥について、都市部に人口が集中した結果、都市部には劣悪な環境で貧困層が住む地域が形成されています。この地域を何といいますか、カタカナで答えなさい。

問7 下線部⑦について、地図2中の★▲◎は、石油、鉄鉱石、銅のいずれかの分布を示しています。記号と資源の組合せとして正しいものを、次のア～カから1つ選びなさい。

	ア	イ	ウ	エ	オ	カ
★	石油	石油	鉄鉱石	鉄鉱石	銅	銅
▲	鉄鉱石	銅	石油	銅	石油	鉄鉱石
◎	銅	鉄鉱石	銅	石油	鉄鉱石	石油

問8 下線部⑧について、地図2中のX国とZ国は、産業構造の変化とともに輸出品目に変化が起きています。下の表は、X国とZ国の1982年と2022年の輸出品目を示したもので、aとbにはX国とZ国のいずれか、cとdには1982年と2022年のいずれかがあてはまります。Z国の2022年にあてはまるものを、ア～エの中から1つ選びなさい。



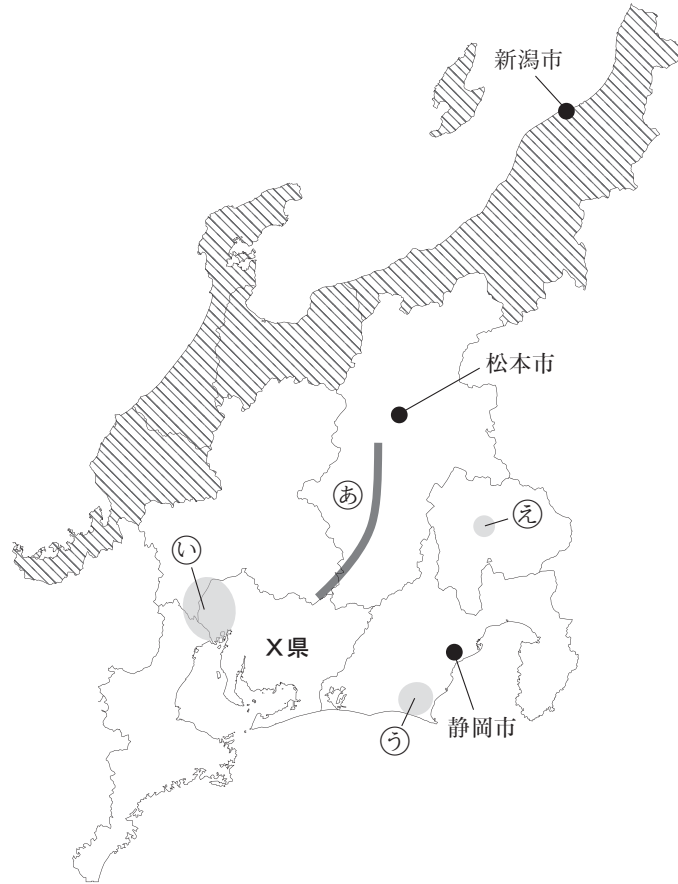
*円グラフは統計上、100%にならないものもある。
 (『世界国勢図会1985、世界国勢図会2024/25』より作成)

問9 地図2中のX国では、バイオエタノールの生産を増やしてきました。このことについて、次の問いに答えなさい。

- X国のバイオエタノールの主となる原料作物名を答えなさい。
- 次の会話文中の に適する文章を、「二酸化炭素」と「地球温暖化」という語句を用いて答えなさい。

帝太さん : 「バイオエタノールの普及は、環境に配慮した取り組みだといわれているよ。どうしてかな。」
 塚子さん : 「それは、 と考えられているからだよ。」
 帝太さん : 「なるほど。でも、燃料となる作物を栽培するために、森林を伐採しているとも聞くよ。」
 塚子さん : 「そうなんだね。開発と保全の両立は難しいな。」

【B】



地図3

問1 地図3中の㊸の山脈名を漢字で答えなさい。

問2 次の表は、地図3中の静岡市、新潟市、松本市のいずれかについて、1月平均気温と7月平均気温の差*(°C)と1月の日照時間(時間)、7月の日照時間(時間)を示したものです。表中の①~③と都市名の正しい組合せを、下のア~カから1つ選びなさい。

*値は1991年～2020年の平年値。

	①	②	③
1月平均気温と7月平均気温の差(°C)	24.5	22.4	19.2
1月の日照時間(時間)	172.5	56.4	207.9
7月の日照時間(時間)	174.8	162.1	157.9

	ア	イ	ウ	エ	オ	カ
静岡市	①	①	②	②	③	③
新潟市	②	③	①	③	①	②
松本市	③	②	③	①	②	①

(『気象庁ホームページ』より作成)

問3 次の文I・IIは、地図3中の㊸と㊹の地域で行われている農業について説明したものです。I・IIの各文について、正誤の組合せとして正しいものを、次のア~エから1つ選びなさい。

I ㊸では、大きな河川がないので、用水路を整備し、野菜や花などを栽培する園芸農業が行われている。

II ㊹は、水はけのよい台地が広がり、明治時代から茶の栽培が盛んになった。

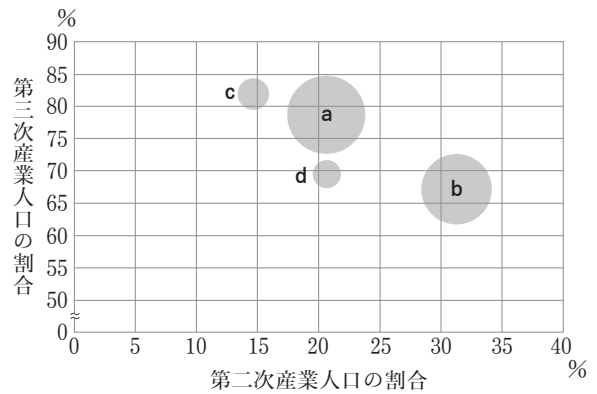
ア I-正 II-正

イ I-正 II-誤

ウ I-誤 II-正

エ I-誤 II-誤

問4 右の図は、縦軸が第三次産業人口の割合（2022年、%）、横軸が第二次産業人口の割合（2022年、%）を示したものであり、円の大きさは各県の人口（2023年）を表しています。図中のa～dは、地図3中のX県、青森県、沖縄県、神奈川県いずれかです。X県と沖縄県の組合せとして正しいものを、下のア～エから1つ選びなさい。



(『データでみる県勢2025』より作成)

	X県	沖縄県
ア	a	c
イ	a	d
ウ	b	c
エ	b	d

問5 地図3中の㊦では、川が山間部から盆地に流れ出たところに土砂が堆積した地形が複数見られます。この地形名を漢字で答えなさい。

問6 地図3中の斜線地域では、地場産業がさかんです。斜線地域で見られる地場産業と都市名の組合せとして正しいものを、次のア～エから1つ選びなさい。

- ア 漆器－輪島 イ 金ばく－鯖江 ウ めがねフレーム－燕 エ 金属洋食器－金沢

2 次の【A】～【E】の文章を読み、あとの問いに答えなさい。

【A】

- a 紀元前3世紀には、秦の王が戦国時代の中国を統一する帝国を造り上げ、中国史上初めて「(1)」を名乗った。以後、中国統一王朝の支配者はみずから「(1)」と名乗るようになった。秦は、長さ・容積・重さの基準や、文字、貨幣を統一した。また、【あ】などの北方の遊牧民の侵入を防ぐために万里の長城を築いた。
- b 3世紀になると、中国では漢がほろび、魏・蜀・呉の三国が争う三国時代になった。
- c 5世紀から6世紀にかけて、中国は南朝と北朝とに分かれて対立する南北朝時代となった。倭の五王は、たびたび中国の南朝の【い】に朝貢した。
- d 7世紀初めに唐が中国を統一した。唐は刑法や行政法からなる(2)に基づく支配の仕組みを前の王朝から引きつぎ、強大な帝国となった。7世紀後半には朝鮮半島の(3)と結んで、朝鮮半島の南西や北にあった国をほろぼしたが、やがて(3)と対立するようになった。

問1 (1)～(3)にあてはまる語句をそれぞれ漢字で答えなさい。

問2 【あ】・【い】にあてはまる語句の組合せとして正しいものを、次のア～エから1つ選びなさい。

- ア あ－契丹 い－宋 イ あ－契丹 い－隋
 ウ あ－匈奴 い－宋 エ あ－匈奴 い－隋

令和8年度 帝塚山高等学校入学試験問題・社会 (その6)

問3 次の文章は、中国の歴史書に書かれた日本についての記述です。この記述と同じ世紀のできごとを【A】のa～dの文章から1つ、ア～エの記号で選びなさい。

…南に進むと邪馬台国に着く。ここは女王が都を置いている所である。…その国にはもともと男の王がいたが、その後国内が乱れたので一人の女子を王とした。名を卑弥呼といい、成人しているが夫はおらず、一人の弟が国政を補佐している。…卑弥呼が死んだとき、直径が100歩余りもある大きな墓を造った。

ア a イ b ウ c エ d

【B】

- a アラビア半島に生まれた(1)は、ユダヤ教やキリスト教を基に、唯一の神のお告げを受けたとして、①イスラム教を始めた。その後、(1)の教えを信じる人々がアラビア半島にイスラム帝国を成立させ、東はペルシャ、西は北アフリカやイベリア半島に至る地域を支配した。
- b 教会の頂点に立つローマ教皇が、大聖堂建設のための資金を集めようとして免罪符を売り出すと、これを批判してドイツでは(2)が、スイスではカルバンが宗教改革を始めた。(2)やカルバンは、聖職者を特別な存在とはみなさず、教会の組織を改革した。
- c 日蓮は、法華経の題目を唱えれば、人も国も救われると説いた。同じころ、(3)は念仏の札を配って教えを広め、さらに踊念仏を各地で行った。

問1 (1)・(2)にあてはまる語句をそれぞれカタカナで答えなさい。(3)にあてはまる語句を漢字で答えなさい。

問2 下線部①について、イスラム教とイスラム世界のできごとに関する文として誤っているものを、次のア～エから1つ選びなさい。

- ア イスラム教の聖典の「コーラン」は、信者の生活や政治、経済活動を定める役割を果たした。
- イ イスラム世界では、『千夜一夜物語(アラビアン・ナイト)』などの物語が作られた。
- ウ 十字軍の遠征は、エルサレムをイスラム教徒からキリスト教徒が奪回することを目的に始まった。
- エ ビザンツ帝国がイスラム教徒のオスマン帝国をほろぼした結果、イスタンブールがビザンツ帝国の首都となった。

問3 【B】のa～cの文章を古いものから年代順に並べたときの正しい組合せを、次のア～カから1つ選びなさい。

- ア a—b—c イ a—c—b ウ b—a—c エ b—c—a
オ c—a—b カ c—b—a

【C】

フランスで絶対王政を行い、パリの郊外にベルサイユ宮殿を建設した(1)が亡くなった翌年の1716年、日本では、徳川吉宗が紀伊藩主から第8代将軍になり、幕政改革を行った。これを(2)の改革という。吉宗は、幕府の財政難に対応するため、①上げ米の制を定め、大名の石高1万石につき、100石の米を幕府へ納めさせた。また、将軍が民衆の意見を直接聞く目的で評定所に(3)を設置した。

問1 (1)～(3)にあてはまる語句をそれぞれ答えなさい。ただし、(2)と(3)は漢字で答えなさい。

問2 下線部①について、この見返りに幕府は大名に対してどのような恩恵を与えたかを、「参勤交代」と「江戸」の語句を用いて30字以内で説明しなさい(句読点も1字とする)。

令和8年度 帝塚山高等学校入学試験問題・社会 (その7)

【D】

明治新政府が、中央集権国家の建設をめざして廃藩置県を断行した1871年、(1) を特命全権大使とする大規模な使節団が欧米に派遣された。しかし、法の整備など近代化政策が不徹底なこともあって不平等条約の改正交渉が失敗すると、①使節団は欧米の政治や産業、社会状況の視察に重点を移し、2年近く欧米を視察した。

こうした中、政府内で、武力で朝鮮に開国をせまる主張である(2)が高まり、1873年、使節として薩摩出身の(3)を朝鮮に派遣することが決定された。しかし、帰国した使節団のメンバーが反対し、派遣は延期された。その結果、②政府は分裂し、(3)などは政府を去った。この出来事を(2)政変、または明治六年の政変と呼ぶ。

問1 (1) ~ (3) にあてはまる語句をそれぞれ漢字で答えなさい。

問2 下線部①について、次の各文は、この使節団が訪問したアメリカ合衆国・ドイツ・イギリス・ロシアについて説明しています。このうち、説明が正しい文を次のア～エから1つ選びなさい。

- ア アメリカ合衆国では、1869年に最初の大陸横断鉄道が開通し、西部開拓が進展していた。この国は使節団の最初の訪問国で、彼らもこの鉄道を利用して東部から西部へ向かった。
- イ ドイツでは、鉄血政策によって軍事力を強化したプロイセンがフランスとの戦争に勝利し、1871年にプロイセンを中心とした神聖ローマ帝国が成立していた。
- ウ イギリスは、1857年に起こったインド大反乱を鎮圧したのち、インド帝国の皇帝を退位させ、インドの直接支配に乗りだしていた。
- エ ロシアは、不凍港を求めて領土を拡張する南下政策をとっていたが、クリミア戦争の敗北で改革を迫られることになり、1861年に皇帝が農奴解放令を発し、近代化を推し進めていた。

問3 下線部②について、この政変に際して、(3) とともに政府を去った人物を次のア～エから1人選びなさい。

- ア 板垣退助 イ 大久保利通 ウ 伊藤博文 エ 木戸孝允

【E】

太平洋戦争の敗戦後、日本は、アメリカ軍を主力とする連合軍によって占領された。連合軍最高司令官総司令部の指令に従って日本政府が政策を実施する間接統治の方法が採られ、その下で①戦後改革が進められた。軍隊は解散され、戦争犯罪人と見なされた人々は処罰され、太平洋戦争開戦時の内閣総理大臣の(1)は、極東国際軍事裁判で死刑判決を受けた。

(2)天皇も、総司令部の意向に従い、1946年に「人間宣言」を発表し、天皇が神であるという考え方を否定した。日本は敗戦後、アジア・太平洋地域の占領地から軍隊を撤退させ、②植民地や占領地にいた軍人と民間人が日本に戻ってきた。しかし、復員や引き上げは順調に進まず、ソ連による(3)抑留やカザフスタン抑留、ソ連の要請を受けたモンゴルによるモンゴル抑留、中国残留日本人孤児などの問題が発生した。

問1 (1) にあてはまる語句と(2) にあてはまる年号(元号)をそれぞれ漢字で答えなさい。また、(3) にあてはまる語句をカタカナで答えなさい。

問2 下線部①について、連合軍が日本を占領していた時期の戦後改革の内容について述べた正しい文の組合せを、次のア～エから1つ選びなさい。

- Ⓐ 空襲によって生産設備が破壊された結果、マッチや衣料品の切符制が始まった。
- Ⓑ 治安維持法が廃止され、非合法であった日本共産党が合法政党として認められた。
- Ⓒ 農地改革により、地主が持つ一定の面積を超える小作地を政府が強制的に買い上げて、小作人に安く売り渡した。
- Ⓓ 朝鮮戦争に日本から出兵した在日アメリカ軍の後方支援の目的で、自衛隊が設置された。

- ア Ⓐ・Ⓒ イ Ⓐ・Ⓓ ウ Ⓑ・Ⓒ エ Ⓑ・Ⓓ

問3 下線部②について、日本の敗戦当時の日本の植民地や占領地と、その場所が日本の支配地に含まれる直接的なきっかけとなった条約の正しい組合せを、次のア～エから1つ選びなさい。

- ア 旧ドイツ領南洋諸島 — ベルサイユ条約 イ 台湾 — ポーツマス条約
ウ 朝鮮 — 下関条約 エ 北緯50度以南の樺太 — 樺太・千島交換条約

3 次の【A】～【C】の文章や会話文を読み、あとの問いに答えなさい。

【A】

日本では、①戦後の食の洋風化と多様化でコメの消費は減り続けてきた。今後も、人口の減少と②高齢化が重なり、③需要がさらに減ることが予想されている。このような状況では、本来ならコメの値段は安くなるはずである。しかし、農家数の減少で供給量が減り、消費が減ってもコメの価格は高止まりする可能性がある。

コメの価格の高騰のきっかけとなったのは、2023年の猛暑でコメが白濁したり、精米の時に割れやすくなったことである。これにより、一部の業者がコメを手に入れにくくなり、コメの価格が上昇した。農林水産省は、④新米が出回る秋ごろにはコメの価格が落ち着くと予想していた。しかし予想は外れ、⑤コメの価格はさらに上がった。生産量がそこまで伸びなかったことに加え、飼料米・輸出米への転用など様々な原因があったと考えられる。

政府の農業政策はこの半世紀余りの間、コメあまりへの対処が中心になっていた。時代は変わり、コメ不足をいかに防ぐかが課題となるだろう。

問1 下線部①の戦後について、次の問いに答えなさい。

(1) 戦後の経済について、aからcの出来事を古いものから年代順に並べたときの正しい組合せを、次のア～カから1つ選びなさい。

- a 第1次オイルショックが起こる b バブル経済が崩壊する c 高度経済成長期が始まる
ア a—b—c イ a—c—b ウ b—a—c エ b—c—a
オ c—a—b カ c—b—a

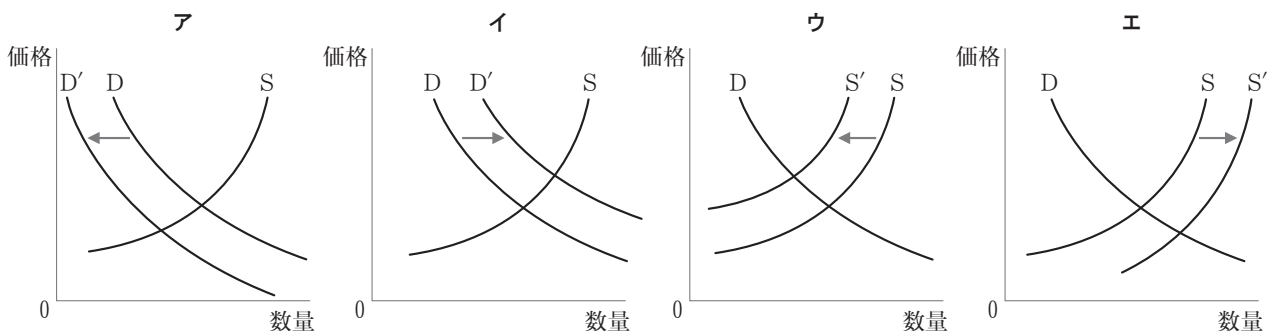
(2) 戦後の政治や選挙に関して最も適当なものを、次のア～エから1つ選びなさい。

- ア 1955年に自由民主党が結成されてから継続して政権を担当し、政権交代は起こったことがない。
イ 選挙権は男女ともに20歳以上から18歳以上と憲法を改正した。
ウ すべての年で、国会議員が提出する法案より、内閣が提出する法案の方が成立数が多い。
エ 1993年に小選挙区比例代表並立制が採用されたことにより、多党制になった。

問2 下線部②について、多くの高齢者は年金保険や医療保険、介護保険を利用しています。この社会保険の制度は、次のいずれの考えに基づいたものか、次のア～ウから1つ選びなさい。

- ア 自助 イ 共助 ウ 公助

問3 波線部③～⑤の現象を表したグラフを、次のア～エからそれぞれ1つずつ選びなさい。



【B】

2025年で、戦後80年の年を迎えた。終戦直後に新しい憲法が制定され、「①国民主権」「平和主義」「②基本的人権の尊重」の3大原則は、国家そのものの大転換を表していた。その後、③主権の回復、保安隊の発足などを経て、日本の復興は予想より早く進み、徐々に国民は平和で豊かな生活を手に入れた。

1990年代に入ると、様々な点で時代が変化した。まず、1992年に制定された（ X ）によって、自衛隊の活動領域が大きく広がった。また、2015年には日本と密接な関係にある他国が攻撃されたとき、共同して防衛にあたることができる権利である（ Y ）の行使を一部容認する閣議決定が行われた。

また、経済の分野ではバブル崩壊後、低迷が続けた。政府は様々な政策を講じたが大きな成果をあげることができず、減税や公共事業の増加などによる④景気対策のために、⑤財政赤字と借金が大きくふくらんでいった。

戦後80年が経ち、近年、価値観の多様化が急速に進んでいる。経済政策とともに、多様化に合わせた国家作りを行うべき転換点に来ている。

問1 下線部①について、国民主権の具体例の一つとして、憲法改正の国民投票があります。その手続きに関する次の文を読み、（ あ ）（ い ）に適するものを、次のア～ウからそれぞれ1つずつ選びなさい。

憲法改正原案が国会に提出されると、（ あ ）で審議されます。総議員の（ い ）以上の賛成で可決されると、国会は国民に対して改正案を示す憲法改正の発議を行います。その後、その改正案について、満18歳以上の国民による国民投票を行い、有効投票の過半数が賛成の場合は、憲法が改正されます。

- | | | |
|----------------|--------|--------|
| （ あ ）ア 衆議院と参議院 | イ 衆議院 | ウ 参議院 |
| （ い ）ア 3分の1 | イ 3分の2 | ウ 4分の3 |

問2 下線部②について述べた文として誤っているものを、次のア～エから1つ選びなさい。

- ア 平等権は、合理的な理由のある区別まで否定するものではない。
- イ 社会権には、生存権や裁判を受ける権利、財産権、教育を受ける権利が含まれる。
- ウ 基本的人権が国によって侵害されていた場合、行政裁判を起すことができる。
- エ 経済の自由は、精神の自由や身体の自由と比較して、法律による制限を受けやすくなっている。

問3 下線部③について、戦後日本の主権回復が承認され、国際社会に復帰することが認められた条約を何というか、答えなさい。

問4 文章中の（ X ）の法律によって、日本は紛争が起こった地域で、停戦や選挙の監視などの活動を行うようになりました。（ X ）にあてはまる法律を何といいますか、答えなさい。

問5 文章中の（ Y ）にあてはまる語句を漢字で答えなさい。

問6 下線部④について、不景気の時に行う日本銀行の金融政策に関する次の文章を読み、【 】にあてはまる文を、次のア～エから1つ選びなさい。

日本銀行は、一般の銀行から国債などを買い取り、代金を支払います。【 】。すると、企業はお金を借りやすくなり、生産が活発になって、景気は回復します。

- ア 一般の銀行は貸し出せるお金が増え、貸し出しに慎重になって金利を上げます。
- イ 一般の銀行は貸し出せるお金が増え、積極的に貸し出そうと金利を下げます。
- ウ 一般の銀行は貸し出せるお金が減り、貸し出しに慎重になって金利を下げます。
- エ 一般の銀行は貸し出せるお金が減り、積極的に貸し出そうと金利を上げます。

問7 下線部⑤について、財政赤字が続いている場合、その解決に関して次のア～エの意見があります。小さな政府の立場から述べられているものとして、正しいものを1つ選びなさい。

- ア 公債の発行を増やし、大幅な減税を行って、福祉サービスを充実させるべきだ。
- イ 公債の発行を増やし、歳出を大幅に増やして、公共投資を充実させるべきだ。
- ウ 公債の発行を減らし、大幅な増税を行って、国営企業を増やすべきだ。
- エ 公債の発行を減らし、歳出を大幅に減らして、公共財・サービスの一部は民間企業に任せるべきだ。

令和8年度 帝塚山高等学校入学試験問題・社会 (その10)

【C】

帝太さん : 「今年(2025年)の夏は、本当に暑いよね。地球温暖化が進んでいることを実感するよ。」

塚子さん : 「確かにそうよね。」

帝太さん : 「熱中症にならないように気を付けないと。」

塚子さん : 「今年の6月からは、職場の熱中症対策が強化されたよね。」

帝太さん : 「私もそのニュース見たよ。すべての①企業が対象で、熱中症の恐れのある②労働者への対応手順などの作成と周知が義務化されていて、怠ると罰則もあるらしい。」

塚子さん : 「なんか、毎日暑いという報道ばかりで、その原因の地球温暖化についてあまり関心を持っている人がいないように感じるのよね。」

帝太さん : 「確かに。」

塚子さん : 「地球温暖化への対策も日本は進めているんだけどなあ。2025年2月、日本が③国連に提出した新しい(X)の目標、知ってる？」

帝太さん : 「うん、知っているよ。日本は2035年と2040年の温室効果ガス削減目標を提出したんだよね。」

塚子さん : 「詳しく調べると…2035年までに2013年比で60%削減、そして2040年には73%削減を目指すという目標だって。」

帝太さん : 「でも、締約した(Y)が排出削減目標を提出する必要があるのに、9割の加盟国・地域が提出期限に間に合わなかったらしい……」

塚子さん : 「世界が協力して課題を解決することは、本当に難しいことだね。」

問1 下線部①について、国際的な取り引きを行っている企業では、為替レートの変動が非常に重要です。1ドル=150円から1ドル=120円に変化すると、どのような状況が発生しますか。次のI、IIの各文について、正誤の組合せとして正しいものを、次のア～エから1つ選びなさい。

I 日本に石炭と鉄鉱石を大量に輸入している製鉄会社は、輸入原材料費の高騰という打撃を受ける。

II 日本から生産した多くの自動車を輸出している自動車会社は、売れ行きが好調となる。

ア I-正 II-正 イ I-正 II-誤 ウ I-誤 II-正 エ I-誤 II-誤

問2 下線部②について、労働者の権利を保障するために、賃金の支払いや労働時間、休日など、働く上での重要な条件について明記した法律を何といいますか、漢字で答えなさい。

問3 下線部③について述べた文として最も適当なものを、次のア～エから1つ選びなさい。

ア 国連の総会の議決では、各国が分担金の金額に比例した票数を持っている。

イ 国連は2030年までに達成すべき17の目標をSDGsとして掲げている。

ウ 福島第一原子力発電所の事故を受けて、国連は原子力発電を廃止するよう各国に呼びかけている。

エ 国連は、貧しい人々が事業を始めるために少額のお金を貸し出す制度であるマイクロクレジットを行っている。

問4 (X)には、京都議定書に代わる、地球温暖化対策のための国際的な新たな枠組みが入ります。その語句を答えなさい。

問5 (Y)に入る語句として最も適当なものを、次のア～エから1つ選びなさい。

ア 温室効果ガスの排出量が多い国

イ 先進国

ウ 途上国

エ すべての国

令和8年度 帝塚山高等学校
入学試験問題・社会 解答用紙

受験番号

ここにシールを貼ってください



262140

1

【A】 問1 問2 問3 (1) (2) 問4 帝国

問5 問6 問7 問8

問9 (1)

(2)

【B】 問1 山脈 問2 問3 問4

問5 問6

2

【A】 問1 1 2 3 問2 問3

【B】 問1 1 2 3 問2 問3

【C】 問1 1 2 3

問2

--	--	--	--	--	--	--	--	--	--	--	--	--	--	--	--	--	--	--	--

【D】 問1 1 2 3 問2 問3

【E】 問1 1 2 3 問2 問3

3

【A】 問1 (1) (2) 問2 問3 ③ ④ ⑤

【B】 問1 (あ) (い) 問2 問3

問4 問5

問6 問7

【C】 問1 問2 問3 問4

問5



1

【A】問1 問2 問3 (1) (2) 問4 帝国

問5 問6 問7 問8

問9 (1)

(2)

【B】問1 山脈 問2 問3 問4

問5 問6

2

【A】問1 1 2 3 問2 問3

【B】問1 1 2 3 問2 問3

【C】問1 1 2 3

問2

大	名	が	参	勤	交	代	で	江	戸	に	住	む	期	間
を	1	年	か	ら	半	年	に	短	縮	し	た	。		

【D】問1 1 2 3 問2 問3

【E】問1 1 2 3 問2 問3

3

【A】問1 (1) (2) 問2 問3 ③ ④ ⑤

【B】問1 (あ) (い) 問2 問3

問4 問5

問6 問7

【C】問1 問2 問3 問4

問5