

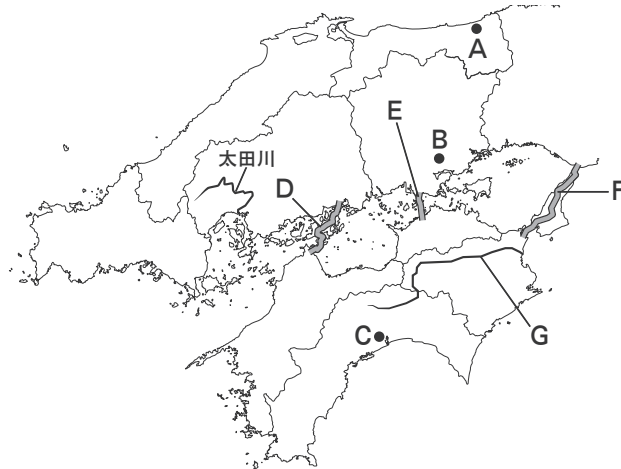
※答えはすべて解答用紙に書きなさい。

※選んで答える問題はすべて記号で答えなさい。

1 次の文章を読み、地図を見て、あとの問いに答えなさい。

中国・四国地方は地域によって気候や農業などさまざまな違いがみられ、その違いを生み出す要因の一つに中国山地や四国山地などの存在があります。山地が①季節風をささげることにより、②これらの山地の風上や風下では異なる気候の特徴が見られます。収穫できる農作物にも違いが生まれ、なかでも高知平野では③温暖な気候を利用した野菜などの栽培がさかんにおこなわれています。

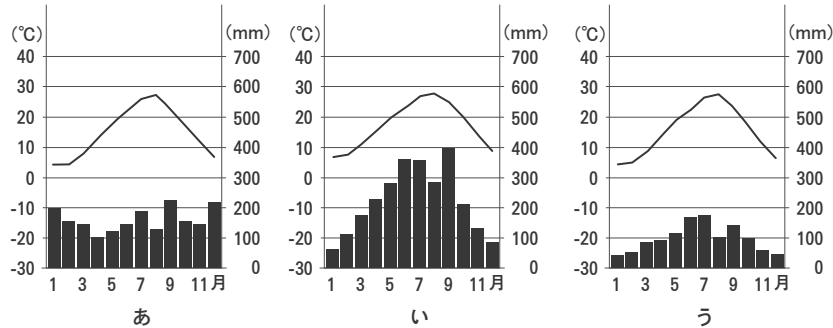
瀬戸内地域は古くから交通の拠点とされ、蔵屋敷や宿場町などといった(1)時代にみられた街並みが残っています。地図中の太田川の下流部に形成された(2)と呼ばれる地形は、(1)時代中期ごろから水田として広く利用されてきました。1988年には④瀬戸大橋が開通したことで、瀬戸内地域では⑤人々の動きや産業にも変化が生まれました。



問1 下線部①が、1月ごろ日本にふいてくる方向として正しいものを、次のア～エから1つ選びなさい。

- ア 南東 イ 南西 ウ 北東 エ 北西

問2 下線部②について、次のあ～うは地図中A～Cのいずれかの地点の雨温図です。あ～うとA～Cの組み合わせとして正しいものを、次のア～カから1つ選びなさい。



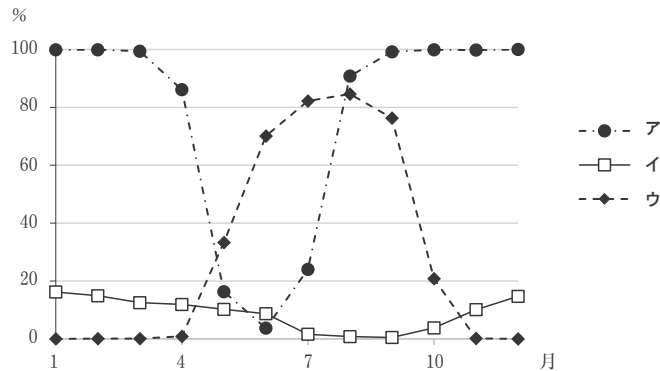
(気象庁ホームページより作成)

	ア	イ	ウ	エ	オ	カ
あ	A	A	B	B	C	C
い	B	C	A	C	A	B
う	C	B	C	A	B	A

令和8年度 帝塚山中学校 2次A入学試験問題・社会 (その2)

問3 下線部③に関連して、あとの(1)・(2)の問いに答えなさい。

- (1) 温暖な気候を利用して出荷時期を早める栽培方法を漢字で答えなさい。
- (2) 次のグラフ中ア～ウは、東京都の市場に出荷された、ピーマンにしめる高知県産、レタスにしめる長野県産、じゃがいもにしめる北海道産の月ごとの割合をそれぞれ示しています。ピーマンにしめる高知県産の割合を示しているものを、ア～ウから1つ選びなさい。



統計年次は2024年
(東京中央卸売市場ホームページより作成)

問4 空欄 (1) ・ (2) に入る語句を漢字で答えなさい。

問5 下線部④に関連して、あとの(1)・(2)の問いに答えなさい。

- (1) 瀬戸大橋を地図中D～Fから1つ選び、記号で答えなさい。
- (2) 瀬戸大橋が結んでいる本州側と四国側の都市の組み合わせとして正しいものを、次のア～エから1つ選びなさい。
- ア 神戸－鳴門 イ 尾道－今治 ウ 児島－坂出 エ 下関－北九州

問6 下線部⑤について述べた文として誤っているものを、次のア～エから1つ選びなさい。

- ア 町おこしや村おこしがさかんにおこなわれ、四国地方の人口は現在まで増え続けている。
- イ 輸送にかかる時間が短くなったため、四国地方から他地域への野菜の出荷量が増えた。
- ウ 中国地方と四国地方の間で、学校に通ったり買い物に行ったりする人の移動が増えた。
- エ ものを運ぶのが便利になったため、瀬戸内海の沿岸部に新しい工場がつけられた。

問7 次の(1)～(5)の文章は、中国・四国地方のいずれかの県について述べたものです。(1)～(5)に当てはまる県の県庁所在地を漢字で答えなさい。

- (1) 日本で最も面積が小さいこの県では、面積の約15%を直島や小豆島などの島がしめています。
- (2) みかんの産地として知られるこの県では、道後温泉などが夏目漱石の小説の舞台になっています。
- (3) 全国で2番目に人口が少ないこの県では、出雲大社など歴史ある神社や文化遺産が多く残っています。
- (4) 日本最大級の砂丘が見られるこの県では、なしやらっきょうの生産量が多いことで知られています。
- (5) ももやぶどうなどの栽培がさかんこの県では、備中松山城など歴史的な建造物が見られます。

問8 地図中Gで示された河川は四国の中央部を東西に流れ、豊かな水量で知られています。この河川名を漢字で答えなさい。

令和8年度 帝塚山中学校 2次A入学試験問題・社会 (その3)

2 次の文章を読んで、あとの問いに答えなさい。

日本列島における稲作は、約3000年前の①縄文時代末期から始まったと考えられています。②弥生時代になると本格的な水稲耕作が始まり、定住生活が進み、集落ごとに水田を整備するようになりました。稲作の発展は人々のあいだに階級ができるきっかけとなりました。

③律令国家が成立すると、政府は人々に田を^{あた}与え、その収穫から(1)という税を徴収しました。この制度により、米は国家運営の^{ほん}基盤となり、④人々の労働は国家にとって不可欠なものとなりました。⑤鎌倉時代に入ると、^{しやう}荘園制度のもとで武士や寺社が年貢を徴収するようになりました。

戦国時代には、各地の大名が領地を測量し、年貢米などによって軍事力を^い維持しました。特に豊臣秀吉による(2)では、全国の土地と収穫量を^{はあく}把握し、支配の安定を図りました。このとき、米は(3)という単位で管理され、経済の基準となりました。

江戸時代になると米は経済の中心となり、武士は^ま給与として米を受け取り、商人に売って現金化しました。また、江戸や大坂には米の市場が設けられました。しかし天候不順や自然災害による不作は^ききんをもたらし、⑥幕府はその都度農業政策を^こころみました。

明治時代以降、農業の機械化が始まると、米の生産量は昭和初期にかけて大きく増加しました。しかし、第2次世界大戦中に食料不足の影響で配給制度が導入され、戦後も米の流通は国家によって管理されるようになりました。その後、米の消費量減少を背景とした(4)政策の実施など、農業政策はたびたび^{かん}転換を^{せま}迫られました。

そして令和の時代、これまでとは異なるかたちで米に関する問題が起きました。農家の^{れい}高齢化や^{けい}後継者不足、輸入米との競争、天候不順による不作などが重なり、米の価格や供給が不安定になったことから、一部では「令和の(5)」とも呼ばれる現象が起きました。

問1 空欄(1)～(5)に入る語句を答えなさい。ただし、(1)～(4)は漢字で答えなさい。

問2 下線部①の遺跡として正しいものを、次のア～エから1つ選びなさい。

ア 吉野ヶ里遺跡 イ 三内丸山遺跡 ウ 大仙陵古墳 エ 唐古・鍵遺跡

問3 下線部②について述べた文として誤っているものを、次のア～エから1つ選びなさい。

- ア 朝鮮半島からわたってきた渡来人が、建築や土木工事などの技術を伝えた。
- イ 中国製の貨幣を大量に使用して、商品の売買をしていた。
- ウ 倉庫にたくわえられた食料や種もみ、鉄製の農具などをめぐって、ムラとムラの間で争いがあった。
- エ ムラの指導者が豪族となり、周囲のムラを従えてクニをつくり、王と呼ばれる人も現れた。

問4 下線部③において、戸籍の作成による人民の管理と土地の分配をもとに人民から税を集める制度を漢字5字で答えなさい。

問5 下線部④に関連して、北九州の警備をする兵士のことを漢字2字で答えなさい。

問6 下線部⑤について、次の(1)・(2)の問いに答えなさい。

- (1) この時代に起こった出来事について述べた文として誤っているものを、次のア～エから1つ選びなさい。
 - ア 壇ノ浦の戦いにおいて、平清盛をたおした。
 - イ 武士の裁判の基準となる御成敗式目が作られた。
 - ウ 承久の乱の後、後鳥羽上皇は隠岐の島に流された。
 - エ 元寇の後、恩賞として新しい領地をもらえない武士がいた。

令和8年度 帝塚山中学校 2次A入学試験問題・社会 (その4)

(2) 鎌倉幕府で將軍を補佐し、のちに実権をにぎった職を漢字で答えなさい。

問7 下線部⑥について述べた文として誤っているものを、次のア～エから1つ選びなさい。

- ア 徳川家光は寛政の改革の一つとして、各藩の米の収穫量を調査した。
- イ 徳川吉宗は享保の改革の一つとして、甘藷の栽培をすすめた。
- ウ 田沼意次は新田の開発をすすめ、印旛沼の干拓をこころみた。
- エ 水野忠邦は天保の改革の一つとして、都市で働く農民を村にもどす命令を出した。

3 次の文章を読んで、あとの問いに答えなさい。

明治政府は社会改革の一つとして、江戸時代までの身分制度を改め、天皇一族は皇族、大名は華族、①武士は士族、百姓・町人は平民としました。また豊かな強い国づくりをめざして殖産興業をはかり、民間の会社を育成することにも力を入れました。2024年に発行された新札にえがかれている(1)は、日本で初めての銀行のほか、500余りの会社の設立にたずさわりました。その一つが現在の(2)に建てられた富岡製糸場であり、ここで生産された生糸は「トミオカ＝シルク」として世界で名を高めました。

国を強くするためには教育が重要だと考えた政府は学校制度を定め、全国の町や村に小学校を建設し、一定の年齢のすべての②子どもに教育を受けさせようとしてしました。その後、一部の政治家や役人たちだけが政治を進めることに人々は不満を高め、国民の政治参加を求める声があがると、政府は国会開設を約束しました。そのため佐賀藩出身の(3)は立憲改進黨をつくり、国民の意見を政治に反映させようとしてしました。明治から大正に入ることになると③女性の地位向上を目指す運動も進められ、選挙権の獲得、女性や母親の権利を守ることが訴えられました。

第1次世界大戦後、日本はそれまで好調だった輸出が低迷して景気が悪くなりました。さらに1923年に(4)が起こると景気はさらに悪化しました。1930年代に入ると軍人による政治家への圧力が強まり、1936年(5)月には、軍人が大臣を殺害し、東京の中心部を占領する事件が起きました。翌年には日中戦争が始まり、1941年には太平洋戦争が起きました。戦争が相次ぐなかで④国民全体を戦争に協力させる体制がつくられました。

戦後、日本は荒廃した国土の復興に努めるとともに国際社会に復帰し、⑤1950年代後半には経済が急速に発展しました。そして日本の復興を世界に示す東京オリンピックの開催が決まると、国内ではオリンピックに向けて交通の整備が進められ、開会式の直前には東京・大阪間を結ぶ(6)が開通しました。この時期、政府は輸出の拡大にも力を入れ、⑥1968年には国民総生産がアメリカに次いで世界第2位になりました。

問1 下線部①に関連して、武士や平民について述べた次の文あ・いの正誤の組み合わせとして正しいものを、あとのア～エから1つ選びなさい。

- あ 政府の改革に不満をもつ士族が東北地方を中心に次々と反乱を起こしたので、危機感をつのらせた政府は徴兵令を出して西洋式の軍をつくった。
- い 明治時代の初め、日本の人口の9割以上をしめた平民は名字を名のり、職業や住む場所を自由に選べるようになった。

- ア あー正 いー正
- イ あー正 いー誤
- ウ あー誤 いー正
- エ あー誤 いー誤

問2 空欄(1)に入る人名を漢字4字で答えなさい。

問3 空欄(2)に入る県名を漢字で答えなさい。

令和8年度 帝塚山中学校 2次A入学試験問題・社会 (その5)

問4 下線部②に関連して、明治時代の小学校について述べた次の文あ・いの正誤の組み合わせとして正しいものを、あとのア～エから1つ選びなさい。

あ 学校制度が定められた初めのころは、学校の建設費や授業料の負担が重く、小学校に行くことができない子どもがたくさんいた。

い 明治時代を通じて、男子児童は家の仕事で親を助けていたので、その就学率は女子児童の就学率より常に低かった。

- ア あー正 いー正 イ あー正 いー誤
ウ あー誤 いー正 エ あー誤 いー誤

問5 空欄(3)に入る人名を漢字4字で答えなさい。

問6 下線部③に関連して、明治・大正時代の女性について述べた文として誤っているものを、次のア～エから1つ選びなさい。

ア 清国との戦争が激戦になると、与謝野晶子は戦地に出征した弟を思う詩を発表した。

イ 岩倉使節団に同行した津田梅子は、帰国後に女子の教育や地位の向上に力をつくした。

ウ 第1次世界大戦後、タイピストやバスの乗務員などさまざまな職業につく女性が増えた。

エ 平塚らいてうや市川房枝らは新婦人協会を設立し、選挙権などの権利獲得を訴えた。

問7 空欄(4)に入る語句を漢字5字で答えなさい。

問8 空欄(5)に入る数字を答えなさい。

問9 下線部④について、日中戦争から太平洋戦争が終わるまでの国民生活を述べた文として誤っているものを、次のア～エから1つ選びなさい。

ア 労働力不足が深刻となり、中学生や女学生が動員され、兵器工場などで働くようになった。

イ 都市へのアメリカ軍の空襲が激しくなると、都市の小学生は農村などへ集団で疎開した。

ウ 物資不足により、米などの食料や燃料のような生活必需品がしだいに切符制・配給制になった。

エ 日中戦争が始まると治安維持法が定められ、戦争の状況を正確に知るができなかった。

問10 下線部⑤について、この時期に人々が求めた家電製品は三種の神器と呼ばれました。この3つの家電製品の組み合わせとして正しいものを、次のア～エから1つ選びなさい。

ア 白黒テレビ・クーラー・電気洗濯機 イ カラーテレビ・クーラー・コンピューター

ウ 白黒テレビ・電気冷蔵庫・電気洗濯機 エ カラーテレビ・電気冷蔵庫・ラジオ

問11 空欄(6)に入る語句を漢字6字で答えなさい。

問12 下線部⑥に関連して、この時期の日本社会について述べた文として誤っているものを、次のア～エから1つ選びなさい。

ア 新しい生活にあこがれて、水洗トイレやダイニングキッチンを備えた団地に住む人が増えた。

イ 病気や高齢になった時の不安が少なくなるように、健康保険などの社会保障制度が整えられた。

ウ 郊外にできた住宅地から都会に通勤する人が増えたので、大都市の朝晩の通勤電車は混雑した。

エ 以前から課題であった水や空気の汚染などの環境問題が解決され、日本人の平均寿命がのびた。

令和8年度 帝塚山中学校 2次A入学試験問題・社会 (その6)

4 次の〔A〕～〔C〕の文章を読み、あとの問いに答えなさい。

〔A〕 2025年7月、①国連などがおこなうガザ地区への支援を（ 1 ）政府が制限していることをうけ、日本やイギリスなど28か国とヨーロッパ連合は、（ 1 ）政府に対してその制限の解除を求めました。②中東地域では、2025年6月アメリカがイランの核施設を空爆し、イランは報復としてカタールにある米軍基地に攻撃したことも大きな話題となりました。

問1 空欄（ 1 ）に入る国名を答えなさい。

問2 下線部①について述べた次の文あ・いの正誤の組み合わせとして正しいものを、あとのア～エから1つ選びなさい。

あ 国連は世界各地で平和維持活動（PKO）を展開しているが、日本の自衛隊はあくまで日本の防衛のための組織であるため、PKOに参加した実績はない。

い 国連の活動は各国からの分担金により支えられており、国際的な貢献に積極的な日本は、世界で一番多く分担金を負担している。

- ア あー正 いー正 イ あー正 いー誤
ウ あー誤 いー正 エ あー誤 いー誤

問3 下線部②に関連して、この地域で広く信仰を集めているイスラーム（イスラム教）について述べた次の文あ・いの正誤の組み合わせとして正しいものを、あとのア～エから1つ選びなさい。

あ 主に暑く乾燥した気候の地域で信仰されているため、信者の集まりではお酒がふるまわれることが多い。

い 毎日聖地メッカに向かっていのりをささげることや、決められた月の日中は食べ物を口にしないことなどが信者の義務とされている。

- ア あー正 いー正 イ あー正 いー誤
ウ あー誤 いー正 エ あー誤 いー誤

〔B〕 2025年7月におこなわれた③参議院議員選挙において、選挙時点で（ 2 ）首相を中心とする連立政権を組んでいた自由民主党と公明党は、過半数の議席を確保することができませんでした。このことは、その後の④政権運営が難しくなることを意味しました。

問4 空欄（ 2 ）に入る人物の姓のみを漢字で答えなさい。

問5 下線部③について述べた次の文あ・いの正誤の組み合わせとして正しいものを、あとのア～エから1つ選びなさい。

あ 3年ごとに議員の半数が選直され、任期途中で解散されることはない。

い 行政権を行使する内閣に対して、不信任の決議をおこなう権限を持つ。

- ア あー正 いー正 イ あー正 いー誤
ウ あー誤 いー正 エ あー誤 いー誤

令和8年度 帝塚山中学校 2次A入学試験問題・社会 (その7)

問6 下線部④に関連して、政権を運営する内閣について述べた次の文あ・いの正誤の組み合わせとして正しいものを、あとのア～エから1つ選びなさい。

あ 内閣総理大臣と国務大臣で政治の進め方を話し合って決める会議を閣議といい、閣議で多数決により決定された方針に基づいて、各省庁が国の仕事を推進する。

い 内閣の長である内閣総理大臣は、多くの場合、衆議院で多数をしめる政党の代表が選ばれるため、衆議院における各党の議席配分は日本の政治に大きな影響を与えられられる。

- ア あー正 いー正 イ あー正 いー誤
ウ あー誤 いー正 エ あー誤 いー誤

〔C〕 2025年7月、(3) に位置する大津⑤地方裁判所は「警察が否認の調書を作らずその供述を強く誘導したことは違法だ」として、県に3100万円余りの賠償を命じる判決を言いわたしました。この裁判は、殺人の罪で有罪判決を受けて⑥服役した元看護助手が、再審の結果無罪となったことに関するものです。

問7 空欄 (3) に入る県名を漢字で答えなさい。

問8 下線部⑤について述べた次の文あ・いの正誤の組み合わせとして正しいものを、あとのア～エから1つ選びなさい。

あ 裁判員制度は、有権者からくじで選ばれた国民が、重大な刑事事件について地方裁判所で開かれる裁判にのみ参加する制度である。

い 軽微な事件や家庭内の事件などを除いた場合、地方裁判所が一回目の裁判を担当し、この判決に不服があれば高等裁判所、さらに最高裁判所に訴えることができる。

- ア あー正 いー正 イ あー正 いー誤
ウ あー誤 いー正 エ あー誤 いー誤

問9 下線部⑥に関連して、服役は基本的人権のひとつである身体の自由を奪う刑罰に服することですが、日本国憲法に定められる国民の権利と義務について述べた次の文あ・いの正誤の組み合わせとして正しいものを、あとのア～エから1つ選びなさい。

あ 親が子どもに教育を受けさせる義務は定められているが、子どもが教育を受ける権利は定められていない。

い 働くことは国民の義務として定められている一方、働くことは国民の権利としても定められている。

- ア あー正 いー正 イ あー正 いー誤
ウ あー誤 いー正 エ あー誤 いー誤

令和8年度 帝塚山中学校
2次A入学試験問題・社会 解答用紙

受験番号

ここにシールを貼ってください



261340

1

問1 問2 問3 (1) (2)

問4 1 2 問5 (1) (2)

問6 問7 (1) 市 (2) 市 (3) 市

問7 (4) 市 (5) 市 問8 川

2

問1 1 2 3

4 5

問2 問3 問4

問5 問6 (1) (2) 問7

3

問1 問2 問3 県 問4

問5 問6 問7

問8 問9 問10 問11

問12

4

問1 問2 問3

問4 問5 問6

問7 県 問8 問9

令和8年度 帝塚山中学校
2次A入学試験問題・社会 解答用紙

受験番号

ここにシールを貼ってください



261340

1

問1	エ	問2	イ	問3	(1) 促成栽培	(2) イ
問4	1 江戸	2 三角州	問5	(1) E	(2) ウ	
問6	ア	問7	(1) 高松市	(2) 松山市	(3) 松江市	
問7	(4) 鳥取市	(5) 岡山市	問8	吉野川		

2

問1	1 租	2 検地	3 石			
	4 減反	5 米騒動				
問2	イ	問3	イ	問4	班田収授法	
問5	防人	問6	(1) ア	(2) 執権	問7	ア

3

問1	ウ	問2	渋沢栄一	問3	群馬県	問4	イ
問5	大隈重信	問6	ア	問7	関東大震災		
問8	2	問9	エ	問10	ウ	問11	東海道新幹線
問12	エ						

4

問1	イスラエル	問2	エ	問3	ウ
問4	石破	問5	イ	問6	ウ
問7	滋賀県	問8	ア	問9	ウ